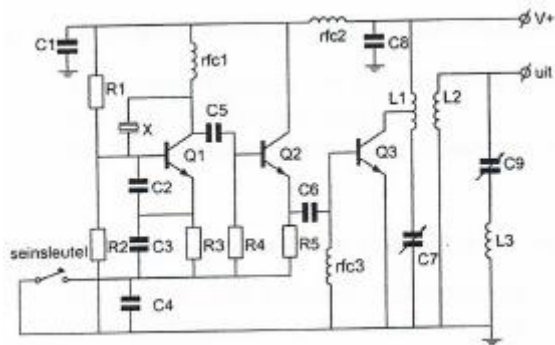


20120502 Novice Vr

01

C9 en L3 vormen hier:



- a bandfilter
- b parallelkring
- c seriekring

02

Op het vaste adres van de geregistreeerde radiozendamateur staat het amateurstation zodanig opgesteld dat door het indrukken van de microfoonschakelaar de zender in bedrijf komt.

De radiozendamateur is niet aanwezig.

Wat is juist?

- a dit is in strijd met de gebruikersbepalingen
- b dit is toegestaan als het bewijs van registratie aanwezig is
- c de radiozendamateur handelt correct als hij aan z'n huisgenoten heeft verteld dat niemand aan het amateurstation mag komen

03

Na zonsondergang worden ver verwijderde radiostations in de 3,5 MHz band hoorbaar.

Dit wordt veroorzaakt omdat:

- a de D-laag verdwijnt
- b de F-laag splitst in de F1- en de F2-laag
- c de E-laag ontstaat

04

De radiozendamateur mag het amateurstation gebruiken voor het uitzenden van:

- a opmerkingen van commerciële aard
- b versleutelde informatie
- c informatie die betrekking heeft op het amateurstation

20120502 Novice Vr

05

De juiste volgorde van toenemende bandbreedte is:

- a CW, EZB-telefonie, FM-telefonie
- b EZB-telefonie, FM-telefonie, CW
- c CW, FM-telefonie, EZB-telefonie

06

De stroom die een weerstand in gaat is:

- a gelijk aan de stroom die er uit komt
- b groter dan de stroom die er uit komt
- c kleiner dan de stroom die er uit komt

07

Een halvegolfantenne heeft een lengte van 1 meter.

Deze antenne is in resonantie voor signalen met een frequentie van ongeveer:

- a 150 MHz
- b 37,5 MHz
- c 75 MHz

08

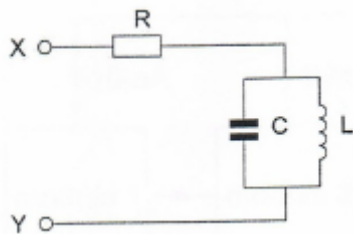
De zelfinductie van een spoel:

- a neemt toe bij meer windingen
- b neemt af bij meer windingen
- c is niet afhankelijk van het aantal windingen

09

De parallelkring is in resonantie.

De impedantie tussen X en Y is:



- a L/C
- b zeer groot
- c R

20120502 Novice Vr

10

Welke maatregel kan worden genomen tegen het optreden van storing als gevolg van een aanwezig stoorveld ?

- a het toepassen van een gesloten metalen kast
- b het toepassen van een kunststof kast
- c Het stabiliseren van de voedingsspanning

11

De gebruikelijke bandbreedte van een amateur EZB-telefoniesignaal is:

- a 500 Hz
- b 2 à 3 kHz
- c 12 a 15 kHz

12

Het frequentiebereik van een ontvanger loopt van 144 tot 146 MHz.

De middenfrequentie is 10 Mhz

Het frequentiebereik van de oscillator kan zijn:

- a 144 - 146 MHz
- b 154 -156 MHz
- c 164 - 166 MHz

13

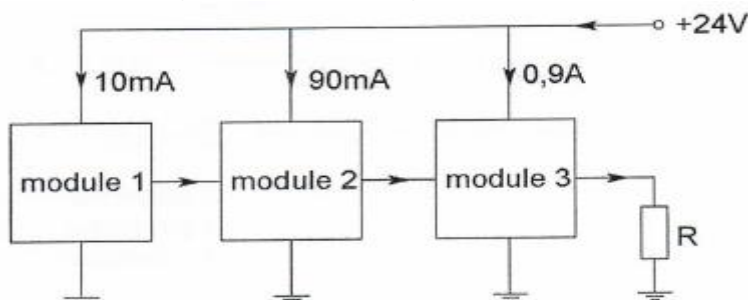
Na inval van de schemering zijn signalen van ver verwijderde zenders op de 80-meter band sterker omdat:

- a de F-laag is gestegen
- b de D-laag is verdwenen
- c de D-laag dikker is geworden

14

Een zender bestaat uit drie modulen.

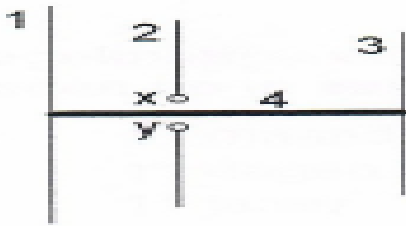
Het totale opgenomen vermogen van deze drie modulen is:



- a 24 W
- b 36 W
- c 48 W

20120502 Novice Vr

15



x en y = voedingspunten

De gebruikelijke naam voor element nr. 3 van de yagi-antenne is:

- a straler
- b reflector
- c director

16

Met een dipmeter bepaalt men:

- a de frequentiezwaai van een FM-zender
- b de resonantiefrequentie van een kring
- c de staandegolfverhouding

17

In welke schakeling geleidt de diode?

1. $-4V$ — [resistor] — [diode] — $0V$
2. $-4V$ — [diode] — [resistor] — $+4V$
3. $0V$ — [resistor] — [diode] — $-4V$

- a schakeling 3
- b schakeling 2
- c schakeling 1

18

Een zender is aangesloten op een kunstantenne (dummy load). Het uitgangsvermogen van de zender wordt een factor 4 vergroot. De uitgangsstroom wordt dan:

- a 4 maal zo groot
- b 16 maal zo groot
- c 2 maal zo groot

20120502 Novice Vr

19

Regelmatige veranderingen in de ionosfeer ten gevolge van zonnevlekkenactiviteit treden op in een cyclus van:

- a 11 maanden
- b 11 dagen
- c 11 jaren

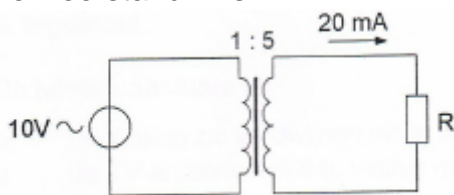
20

Een voeding wordt beveiligd met één of meer smeltveiligheden in de netleiding. Dit wordt in de praktijk gedaan met:

- a één trage zekering
- b één snelle zekering
- c een snelle en een trage zekering parallel

21

De weerstand R is:



- a 100 Ω
- b 200 Ω
- c 2500 Ω

22

De functie van de stuurtrap in een FM-zender is het:

- a opwekken van de zendfrequentie
- b insturen van de eindtrap
- c moduleren van de draaggolf

23

De hoogfrequent-verliezen van een condensator zijn het kleinst indien als diélektricum wordt toegepast:

- a polystyreen
- b lucht
- c keramiek

20120502 Novice Vr

24

Bewering 1:

In een zender wordt fasemodulatie toegepast voor het uitzenden van een datakanaal.

De klasse van uitzending is G3E.

Bewering 2:

Via een enkelzijbandzender met onderdrukte draaggolf wordt met behulp van een hulpdraaggolf met de hand geseinde morsetekens verzonden.

De klasse van uitzending is J2A

Wat is juist ?

- a alleen bewering 2
- b bewering 1 en bewering 2
- c alleen bewering 1

25

Een gebruikelijke waarde voor een variabele condensator is:

- a 10 nanofarad
- b 1 microfarad
- c 100 picofarad

26

Van een amplitude-gemoduleerde 2-meter zender is de modulatie hoorbaar uit de luidspreker van een TV-ontvanger, zelfs als de volumeregelaar hiervan op minimum is ingesteld.

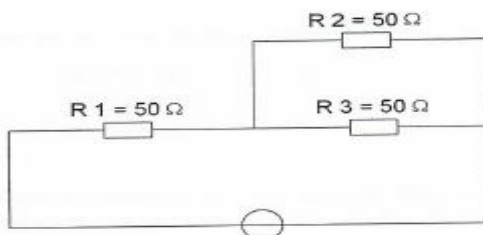
De juiste conclusie is:

- a de storing zal verdwijnen als in de zender enkelzijbandmodulatie wordt toegepast
- b de TV-antenne heeft te weinig richteffect
- b in de laagfrequentversterker van de TV-ontvanger treden detectieverschijnselen op

27

In R3 wordt een vermogen gedissipeerd van 2 watt.

Het vermogen dat in R1 gedissipeerd wordt is:



- a 4 W
- b 16 W
- c 8 W

20120502 Novice Vr

28

Drie condensatoren van 30 nanofarad worden in serie geschakeld.
De vervangingscapaciteit is:

- a 90 nanofarad
- b 30 nanofarad
- c 10 nanofarad

29

Welke karakteristiek behoort bij een laagdoorlaatfilter ?



- a karakteristiek 3
- b karakteristiek 2
- c karakteristiek 1

30

Om de resonantiefrequentie van een antenne te verhogen dient men:

- a de antenne te verlengen
- b de voedingslijn te verlengen
- c de antenne te verkorten

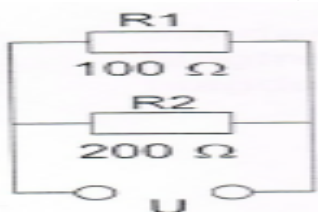
31

Tijderis uitzendingen op frequenties, waarop de Amateurdienst met een secundaire status is toegestaan, is de radiozendamateur verplicht:

- a altijd voorrang te verlenen aan andere diensten met een secundaire status
- b altijd voorrang te verlenen aan diensten die een gelijke status hebben als de Amateurdienst
- c altijd voorrang te verlenen aan diensten met een primaire status

32

In R1 wordt 36 watt aan warmte ontwikkeld.
De warmte ontwikkeling in R2 bedraagt:



- a 36 W
- b 18 W
- c 9 W

20120502 Novice Vr

[33](#)

De wetgever onderscheidt registratie in de categorieën F en N voor het doen van onderzoeken door radiozendamateurs.

Dit onderscheid bepaalt uitsluitend de toegestane:

- a frequentiebanden en zendvermogens
- b zendvermogens en klassen van uitzending
- c klassen van uitzending en de status op de toegewezen banden

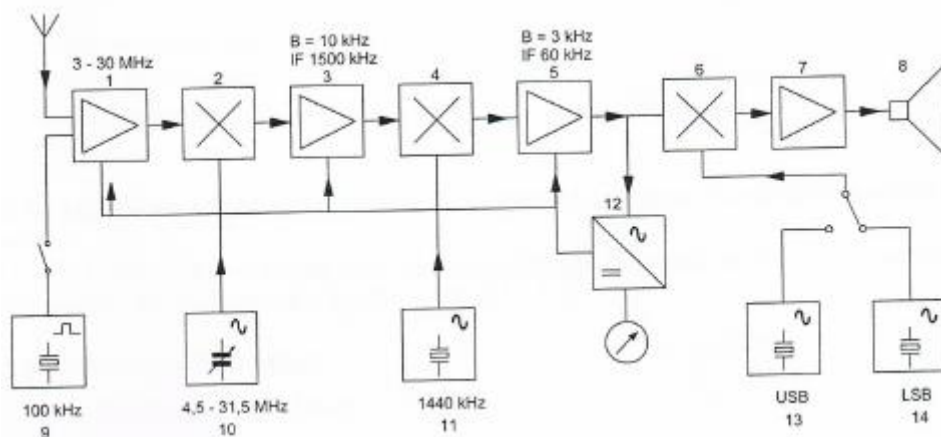
[34](#)

De automatische versterkingsregeling (AVR) in een hf-ontvanger heeft als functie

- a frequentie-afwijkingen te corrigeren
- b de versterking aan te passen aan de signaalsterkte
- c de ontvangerversterking constant te houden

[35](#)

In het blokschema is de functie van blok 7:



- a interferentie oscillator
- b laagfrequentversterker
- c laagdoorlaatfilter

[36](#)

Bewering 1:

Een dubbelzijdig AM-zender wordt gemoduleerd met een spraaksignaal

De klasse van uitzending is J3E.

Bewering 2:

Een FM-zender wordt gemoduleerd met een spraaksignaal

De klasse van uitzending is F3E

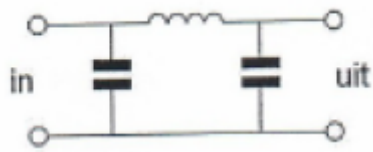
Wat is juist ?

- a alleen bewering
- b alleen bewering 2
- c bewering 1 en bewering 2

20120502 Novice Vr

37.

Dit is een schema van een:



- a. hoogdoorlaatfilter
- b. Laagdoorlaatfilter
- c. Bandsperfilter

38

In de algemene bepalingen van de Telecommunicatiewet komt de volgende definitie voor

" (- X -)." apparaten die naar hun aard bestemd zijn voor het zenden of het zenden en ontvangen van radiocommunicatiesignalen."

In plaats van (- X -) staat:

- a. radio-ontvangapparaten
- b. Radioversterkerapparaten
- c. Radiozendapparaten

39.

Radioverbindingen in de 2-meter band tussen stations op aarde vinden in het algemeen plaats via de:

- a. stratosfeer
- b. ionosfeer
- c. troposfeer

40

Een amateurzender werkend in de 21 MHz band veroorzaakt storing in de frequentieband 61-68 MHz.

De storing kan worden verminderd door:

- a. een hoogdoorlaatfilter achter de zender te plaatsen
- b. de uitsturing van de eindtrap te verkleinen
- c. de frequentiestabiliteit te vergroten